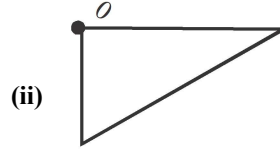
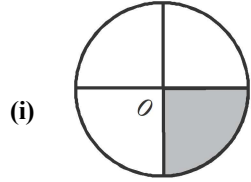


Time: 10 Minutes	Paper Math 6 (T-1)	Total Marks: 10
5th Month, 2nd Week, 1st Day	Exercise 9.3 Q # (2, 3, 4)	

☆ Answer the following questions: درج ذیل سوالات کے جواب دیں۔


Q.1. Rotate the given figures and write the order of symmetry. (2x3=6)

دی گئی اشکال کو گھمائیں اور تشاکل کا مرتبہ لکھیں۔



Q.2. Draw the possible lines of symmetry for the following shapes. (1x2=2)

درج ذیل شکلوں کے لیے تشاکل کی ممکنہ لائنز کھینچیں۔



Q.3. Draw a shape with exactly two lines of symmetry. (1x2=2)

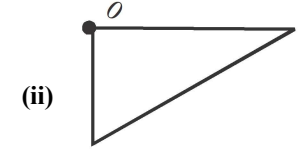
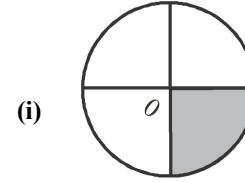
تشاکل کی دو لائنز کی مدد سے ایک شکل بنائیں۔

Time: 10 Minutes	Paper Math 6 (T-1)	Total Marks: 10
5th Month, 2nd Week, 1st Day	Exercise 9.3 Q # (2, 3, 4)	

☆ Answer the following questions: درج ذیل سوالات کے جواب دیں۔

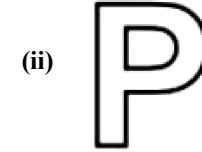
Q.1. Rotate the given figures and write the order of symmetry. (2x3=6)

دی گئی اشکال کو گھمائیں اور تشاکل کا مرتبہ لکھیں۔



Q.2. Draw the possible lines of symmetry for the following shapes. (1x2=2)

درج ذیل شکلوں کے لیے تشاکل کی ممکنہ لائنز کھینچیں۔



Q.3. Draw a shape with exactly two lines of symmetry. (1x2=2)

تشاکل کی دو لائنز کی مدد سے ایک شکل بنائیں۔